




ATAKAN

YÖS AKADEMİ

Atatürk 2016

 044-33435049

 atakanedu

 atakanedu

www.atakanedu.com



ATATÜRK ÜNİVERSİTESİ

ULUSLARARASI ÖĞRENCİ SINAVI TEMEL ÖĞRENME BECERİLERİ TESTİ - İNGİLİZCE TESTİ

PROFİCİENCY TEST FOR INTERNATIONAL STUDENTS THE BASIC LEARNING SKILLS TEST - THE ENGLISH LANGUAGE TEST

16 Nisan 2016, Saat: 10.⁰⁰ (TR)

A

ADAYIN / APPLICANT'S :

ADI / NAME :

SOYADI / SURNAME :

BAŞVURU NUMARASI / APPLICATION NUMBER :

SINAV SALON NO / EXAMINATION ROOM NO :

GENEL AÇIKLAMA (GENERAL INSTRUCTIONS)

1. Bu sınavdaki soruların nasıl cevaplanacağı, testlerin başında açıklanmıştır. Soruları cevaplamaya başlamadan önce bu açıklamaları dikkatle okuyunuz.
2. Bu testlerdeki her sorunun bir tek doğru cevabı vardır. Bir soru için birden çok cevap yeri işaretlenmişse, o soru yanlış cevaplanmış sayılacaktır.
3. Cevaplarınızı koyu siyah ve yumuşak bir kurşun kalemle işaretleyiniz. İşaretlerinizi cevap yerinin dışına taşırmayınız. Tükenmez kalem veya dolma kalem kullanmayınız.
4. Cevap kâğıdınızı buruşturmayınız, katlamayınız ve üzerine gereksiz hiçbir işaret koymayınız.
5. Değiştirmek istediğiniz bir cevabı, yumuşak bir silgiyle, cevap kâğıdını örselemeden, temizce siliniz ve yeni cevabınızı işaretlemeyi unutmayınız.
6. Sınavda uyulacak diğer kurallar bu kitapçığın arka kapağında belirtilmiştir.

1. The instructions for answering the questions appear at the beginning of the tests. Please read these carefully before beginning.
2. In these tests there is only one correct answer for each question. If more than one alternative is marked, that answer will automatically be considered wrong.
3. You should use a soft, black pencil to mark the answer sheet. Completely fill in the circle for the answer you have chosen, but make sure your mark does not exceed of the circle. Do not use any kind of pen.
4. Keep the answer sheet flat and do not fold it. Do not make any unnecessary marks on it.
5. If you wish to change an answer, carefully erase it completely with a soft eraser. Do not forget to mark your new answer.
6. The other regulations concerning the administration of the tests will be found at the back of the booklet.

Bu testlerin her hakkı saklıdır. Hangi amaçla olursa olsun, testlerin tamamının veya bir kısmının Atatürk Üniversitesinin yazılı izni olmadan kopya edilmesi, fotoğrafının çekilmesi, herhangi bir yolla çoğaltılması, yayımlanması ya da kullanılması yasaktır. Bu yasağa uymayanlar gerekli cezai sorumluluğu ve testlerin hazırlanmasındaki mali külfeti peşinen kabullenmiş sayılır.

BU SAYFA BOŞ BIRAKILMIŞTIR.

TEMEL ÖĞRENME BECERİLERİ TESTİ
(THE BASIC LEARNING SKILLS TEST)

1. Bu test sizin soyut düşünme gücünüzü ölçmek için hazırlanmıştır.
 2. Bu testte 80 soru vardır.
 3. Bu testteki soruların cevapları, Cevap Kâğıdının Temel Öğrenme Becerileri Testi için ayrılmış olan kısmına işaretlenecektir.
 4. Cevaplamaya istediğiniz sorudan başlayabilirsiniz.
1. This test is designed to measure your abstract reasoning.
 2. This test is comprised of 80 questions.
 3. Please use the appropriate part of the answer sheet for this part of the test, namely the Basic Learning Skills Test section.
 4. You may begin to answer the questions with whichever you want.

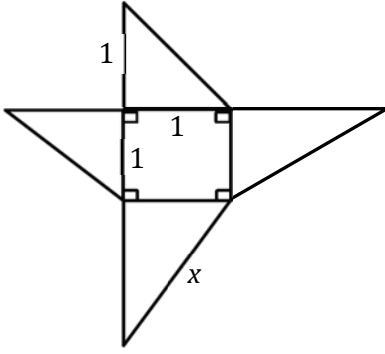
NOT

ONDALIK KESİRLERİ GÖSTERMEK İÇİN TÜRKÇE METİNLERDE VİRGÜL (,) KULLANILIR.

NOTE

DECIMALS ARE INDICATED BY A COMMA (,) IN TURKISH.

3.



Yukarıdaki şekil kare tabanlı bir piramidin açılımıdır. Buna göre $x = ?$

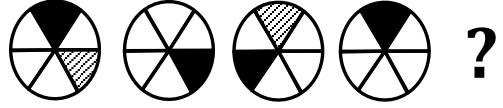
The shape above describes the unfolding of a square based pyramid. What is $x = ?$

La figure ci-dessus est le découpage d'une pyramide à base carré. D'après cela $x = ?$

- A. 1
- B. $\sqrt{2}$
- C. $\sqrt{3}$
- D. 2
- E. 3

A

4.



Soru işaretinin yerine getirilmesi gereken şekli bulunuz.

In question 4 find the figure to replace the question mark.

Trouvez la figure qui remplacerait le point d'interrogation.

- A.
- B.
- C.
- D.
- E.

A

9.

Soru işareti “?” olan yere aşağıdakilerden hangisi getirilmelidir?

Which of the following should come in place of the question mark (?) ?

Laquelle de ces figures ci-dessous doit être à la place du point d’interrogation ?

- A.
- B.
- C.
- D.
- E.

10. Aşağıdaki şekillerin hepsi kenar uzunluğu $1 br$ olan karelerden oluşmaktadır. Buna göre hangi şeklin çevre uzunluğu en büyüktür?

All of the following figures is composed from squares with side length $1 br$.

Accordingly, the circumferential length of the figure which is the largest?

Toutes les figures ci-dessous sont composées des carrés dont le côté mesure $1 unité$. D’après cela, laquelle des figures possède-t-elle le périmètre le plus long ?

- A.
- B.
- C.
- D.
- E.

A

13.

I			
II			
III			?

Şekilde “?” yerine aşağıdakilerden hangisi getirilmelidir?

Which of the following figures should come in place of the question mark (?) in the table above?

Laquelle des figures ci-dessous doit être à la place du point d’interrogation dans l’illustration ?

- A.
- B.
- C.
- D.
- E.

14. AB iki basamaklı pozitif bir tam sayı olmak üzere,

$$H(AB)=A \times B+1, \quad A \geq B \text{ ise}$$

$$H(AB)=A+B, \quad A < B \text{ ise}$$

biçiminde tanımlanmıştır.

$H(AB)=13$ olduğuna göre, aşağıdakilerden hangisi AB olamaz?

$H(AB)$ is defined as

$$H(AB)=A \times B+1, \quad \text{if } A \geq B,$$

$$H(AB)=A+B, \quad \text{if } A < B,$$

where AB is the two-digit positive integer.

When $H(AB)=13$, which on the followings cannot equal to AB ?

AB étant un nombre entier de deux chiffres positif, les équations sont définies de manière suivante:

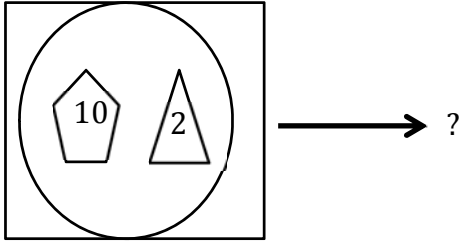
$$H(AB)=A \times B+1, \quad \text{dans le cas où } A \geq B$$

$$H(AB)=A+B, \quad \text{dans le cas où } A < B$$

Si $H(AB)=13$, lequel de ces nombres ci-dessous ne peut pas être AB ?

- A. 43
- B. 49
- C. 62
- D. 67
- E. 83

27.



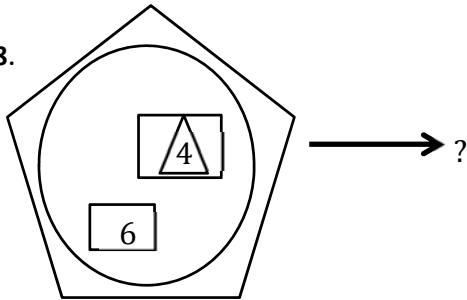
Verilen şekilde soru işareti yerine hangi sayı getirilmelidir?

Which number should come in place of the question mark (?) ?

Quel nombre doit-il remplacer le point d'interrogation dans la figure donnée ?

- A. 27
- B. 32
- C. 48
- D. 64
- E. 78

28.



Soru işareti yerine hangi sayı gelir?

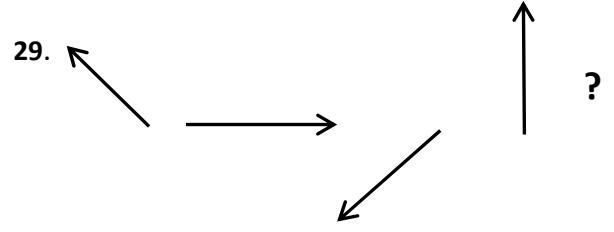
Which number should come in place of the question mark (?) ?

Quel nombre peut-il remplacer le point d'interrogation?

- A. 10
- B. 16
- C. 18
- D. 36
- E. 40

A

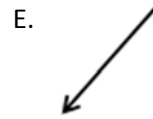
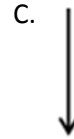
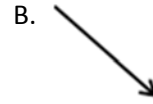
29.



Verilen şekle göre soru işareti “?” olan yere aşağıdakilerden hangisi getirilmelidir?

Which according to the given shape above, of the following shapes should come in place of the question mark (?) ?

Selon la figure donnée, lequel des choix ci-dessous doit remplacer le point d'interrogation ?



A

33.

Δ	a	b	c	d	e
a	d	e	b	c	a
b	c	d	e	a	b
c	e	a	d	b	c
d	b	c	a	e	d
e	a	b	c	d	e

Tabloda Δ işleminin görevi belirlenmiştir.

The operation of Δ is displayed in the table.

Dans le tableau, la fonction de l'opération Δ est déterminée.

Örnekler:

$$a \Delta c = b$$

$$d \Delta e = d$$

(Examples) :

$$a \Delta c = b$$

$$d \Delta e = d$$

Exemples:

$$a \Delta c = b$$

$$d \Delta e = d$$

$$x \Delta (c \Delta b) = a \Rightarrow x = ?$$

- A. a
- B. b
- C. c
- D. d
- E. e

34. I. $a^b \otimes b^a = \frac{a^b}{a} + \frac{b^a}{b}$

II. $32 \otimes 25 = ?$

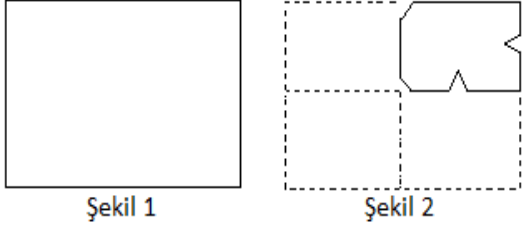
I. eşitlikte \otimes işleminin görevi belirlenmiştir. Buna göre, II. eşitlikte soru işaretinin yerine aşağıdakilerden hangisi gelmelidir?

In the first equation, the function of \otimes is displayed. According to the function, which of the following does the equation mark stand for in equation II?

Dans l'égalité I, la fonction de l'opération \otimes est déterminée. Lequel des choix ci-dessous doit remplacer le point d'interrogation dans l'égalité II?

- A. 13
- B. 18
- C. 21
- D. 26
- E. 49

37.



Şekil 1

Şekil 2

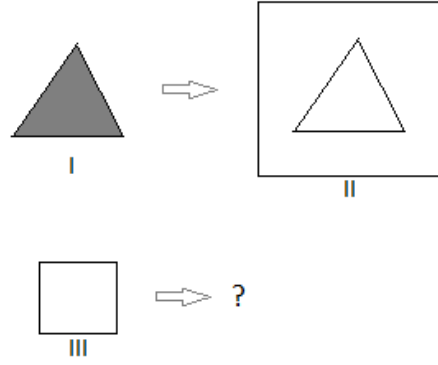
Şekil 1'deki kağıt Şekil 2'deki gibi katlanıp kesiliyor. Kağıt tekrar açılınca aşağıdakilerden hangisi görülür?

Paper in Figure 1 is folded and cut as in Figure 2. After the paper is opened again which of the following is obtained?

Le papier dans la figure I est plié et coupé comme dans la figure II. Lorsque le papier est déplié, laquelle des figures ci-dessous apparait-elle ?

- A.
- B.
- C.
- D.
- E.

38



I

II

III

Verilen I. ve II. şekiller arasındaki ilişki, III. şekil ile aşağıdakilerden hangisi arasında vardır?

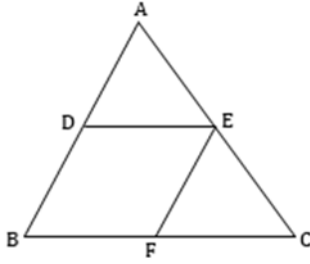
Which of the following figure has the same relationship with figure III as the relationship between I and II ?

La relation entre les figures I et II ci-dessus est-elle identique à celle entre la figure III et les choix ci-dessous ?

- A.
- B.
- C.
- D.
- E.

A

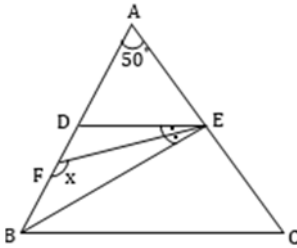
75.



$DE \parallel BC$
 $EF \parallel AB$
 $A(ADE) = 4 \text{ cm}^2$
 $A(DBFE) = 20 \text{ cm}^2$
 $A(EFC) = ?$

- A. 10
- B. 15
- C. 20
- D. 25
- E. 30

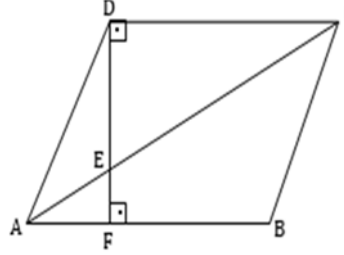
76.



$DE \parallel BC$
 $m(\widehat{DEF}) = m(\widehat{FEB})$
 $|BE| = |BC|$
 $m(\widehat{BAC}) = 50^\circ$
 $m(\widehat{BFE}) = x = ?$

- A. 100
- B. 110
- C. 120
- D. 140
- E. 150

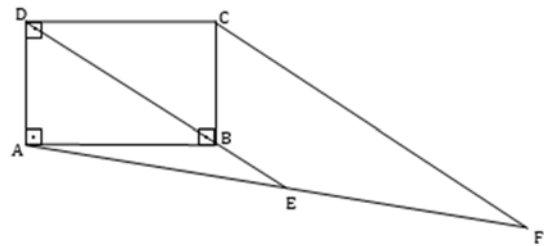
77.



$DC \parallel AB$
 $BC \parallel AD$
 $DF \perp AB$
 $|DE| = 3|EF|$
 $|FB| = 2|AF|$
 $\frac{A(EFBC)}{A(AED)} = ?$

- A. 3
- B. 11/3
- C. 4
- D. 13/3
- E. 5

78.



$AD \perp AB, AD \perp DC$
 $BC \perp AB, |DE| \parallel |CF|$
 $|BE| = 3 \text{ cm}$
 $|BC| = 6 \text{ cm}$
 $A(ABCD) = 48 \text{ cm}^2$
 $|CF| = ?$

- A. 8
- B. 10
- C. 12
- D. 15
- E. 16

İNGİLİZCE TESTİ
(THE ENGLISH LANGUAGE TEST)

1. Bu test sizin İngilizceyi anlama gücünüzü ölçmek için hazırlanmıştır.
 2. Bu testte 50 soru vardır.
 3. Bu testteki soruların cevapları, Cevap Kâğıdının İngilizce Testi için ayrılmış olan kısmına işaretlenecektir.
 4. Cevaplamaya istediğiniz sorudan başlayabilirsiniz.
1. This test is designed to measure your ability to understand English.
 2. This test is comprised of 50 questions.
 3. Please use the appropriate part of the answer sheet for this part of the test, namely the English Language Test section.
 4. You may begin to answer the questions with whichever you want.

A

Fill in the blank to complete the paragraph in questions 5-8.

5. **Recently, television has become the national pastime. Since the invention of the TV, people have been spending more free time watching it than doing anything else. Some TV addicts defend this by claiming that people can learn a great deal from watching TV. They also claim that, with cable and satellite companies increasing their share of the market, it is now a waste of money as well.**
- A. In the past, we could watch major sporting events for free
 - B. Others argue that watching television simply robs people of their valuable time
 - C. In fact, some of the documentaries and nature programs are very educational
 - D. The heavyweight boxing championship is an event not on live television
 - E. You need a video to record some programs to watch them later
6. **Cavities can be discovered and filled before they cause serious damage to the tooth if you visit a dentist regularly. If a cavity is left and is allowed to grow, it will eventually get into the dentin and then into the pulp of the tooth. The nerve cells in the pulp, now exposed to the air, will send pain signals to your brain. Now you have a toothache.**
- A. Parents should not give their young children a juice bottle or any sweet drink before going to bed
 - B. It is easy to get rid of all the plaque in your mouth
 - C. Harmful bacteria begin their attack on your teeth if you don't brush your teeth regularly
 - D. Having bacteria in your mouth is normal
 - E. This toothache is your body's way of saying something is wrong
7. **Without Thomas Edison, the world might still be a dark place. He lit up the world with his invention of the electric light. He also invented the phonograph, the motion picture camera, and over 1,200 other things. About every two weeks he created something new.**
- A. However, this was not his only invention
 - B. When he was 12 years old, he got his first job
 - C. Thomas Edison was totally deaf in one ear
 - D. He had a very hard life in his childhood
 - E. Sometimes he worked so intensely that his wife had to remind him to sleep and eat
8. **Cells are very important for human beings. They keep us healthy and alive. As soon as they get old, they are replaced by new ones. This is most noticeable with our skin. Humans shed and regrow outer skin cells about every 27 days; that is almost 1,000 new skins in a lifetime. -----. Drugs and alcohol destroy brain cells which can never be replaced. Using these substances can cause permanent brain damage.**
- A. Animal cells are similar to human cells
 - B. But not all types of cells are replaced. Once brain cells die, new ones are not created
 - C. Human body cells differ in size but not in shape
 - D. The word nuclei is used to refer to more than one nucleus
 - E. All human body cells are covered by a membran

A

14. Our body changes the calories in foods into energy, which is essential for every movement we make, from blinking an eye to running.

- A. Yiyeceklerdeki kalori, vücudumuz tarafından enerjiye dönüştürülür ve bu enerji, göz kırpmak ve koşmak gibi pek çok hareket için kullanılır.
- B. Vücudumuz, yiyeceklerdeki kaloriyi, göz kırpmaktan koşmaya, yaptığımız her hareket için gerekli olan enerjiye dönüştürür.
- C. Göz kırpmaktan koşmaya, yaptığımız her hareket için gerekli olan enerji, yediğimiz yiyeceklerden sağlanır.
- D. Vücudun, göz kırpmak ve koşmak gibi hareketleri yaparken kullandığı enerjiyi, yiyeceklerin içerdiği kaloriler sağlar.
- E. Göz kırpmak ve koşmak gibi hareketleri yapabilmemiz için enerjiye ihtiyaç vardır ve vücudumuz bu enerjiyi yiyeceklerden elde eder.

15. Forensic medicine is now contributing greatly to crime detection with the aid of advanced technology.

- A. Adli tıp, suçların belirlenmesinde sağladığı gelişmeyi bugünün ileri teknolojisine borçludur.
- B. Bugün adli tıpta, ileri teknolojidен yararlanıldığı için, suçların belirlenmesinde büyük başarı sağlanabilmektedir.
- C. İleri teknolojidен yararlanan adli tıp günümüzdeki suç türlerine ilişkin önemli veriler sağlamaktadır.
- D. Günümüzde adli tıp, ileri teknolojinin yardımıyla, suçların belirlenmesine büyük katkı sağlamaktadır.
- E. Adli tıbbın suçları belirlemede sağladığı başarıda günümüzdeki ileri teknolojinin katkısı büyüktür.

Translate the following Turkish sentences into English in questions 16-18.

16. Bir toplumda yaşayan insanlar arasında, bazen korkudan, bazen çaresizlikten bazen de rastlantılardan kaynaklanan bazı batıl inançlar vardır.

- A. Some beliefs arising sometimes from fear, sometimes from helplessness, and sometimes from coincidences.
- B. There are certain superstitious beliefs among people living in a community, arising sometimes from fear, sometimes from helplessness, and sometimes from coincidences.
- C. Certain amounts of unreasoning beliefs among people, arising sometimes from fear, sometimes from helplessness, and sometimes from coincidences have always been very influential.
- D. Sometimes from fear, sometimes from helplessness, and sometimes from coincidences people living in a community may have definite amounts of superstitious beliefs.
- E. There may be great amounts of unreasoning beliefs even among people living in a modern community, arising sometimes from fear, sometimes from helplessness, and sometimes from coincidences.

A

46. The probable title of the passage would be...

- A. The Effects of Extreme Weather Conditions
- B. Global Warming and European Countries
- C. Global Warming and Climate Change
- D. Melting of Icebergs
- E. Food Production and Food Security

47. According to the passage, many studies concluded in 2014 show that each degree of temperature rise will...

- A. Dry up all the oceans and humankind will cease to exist.
- B. Increase violence including violent crimes, civil unrest or wars.
- C. Cause all the mountains, rivers and seas to disappear because of fires and drought.
- D. Start wars between the third world countries.
- E. Initiate negotiations between European countries.

Read the paragraph and answer the questions.

Whether your child plays video games on a portable unit, a television or the Internet, excessive gaming can affect his life. Video game addiction can be as problematic as gambling and affects players as young as 8 years old. Be aware of the effects of a video game compulsion to keep your child's hobby in check. He should not be getting more than two hours of screen time per day and this includes time playing games, watching television and surfing the Internet, according to HealthyChildren.org. If your child spends all of his free time playing video games and skips meals or loses sleep because of excessive game play, a video game addiction can negatively impact his health. Children who spend more than two hours a day in front of a television or video games in lieu of participating in physical activity may suffer from childhood obesity.

48. According to HealthyChildren.org ...

- A. Children over 16 years old can play video games as many hours per day as they can.
- B. All kinds of video games are not dangerous for children.
- C. Childhood obesity is the most dangerous effect of playing video games.
- D. Children should not be getting more than two hours of screen time per day.
- E. Video game addiction is more problematic than gambling.

INSTRUCTIONS

1. It's strictly forbidden to bring cellular (mobile) phones into the examination hall. Also forbidden are any other kind of electronic or communications equipment (other than watches that only show time), weapons, explosive materials, scrap paper, notebooks, books, dictionaries and related instruments, slide-rules, compasses, protractors, rulers, and the like. Any violators of these rules will have their examinations cancelled.
2. The time given to answer the items in this examination is **150 minutes (2.5 h)**.
3. No candidate who has submitted his/her examination paper to a person in charge and leaves the examination hall, for any reason whatsoever, will be allowed to re-enter the hall.
4. After the examination starts, no candidate will be allowed to leave the examination hall during the **first 75 minutes and during the last 15 minutes**.
If you finish answering the questions early (that is, **after the 75 minutes but before the last 15 minutes** of given time for the test), you may hand in your answer sheet, test booklet and 2015-ISPT Examination Entrance and identification card to a person in charge and leave the examination hall. Otherwise, until you are told the time given for the test has ended, you must remain seated and wait until all the answer sheets and test booklets have been collected.
5. During the test, it is forbidden to ask questions of or talk to those persons in charge. It is also against the rules of the examination for people in charge to converse or whisper to any candidates. Similarly, it is forbidden to ask another candidate for a pencil, eraser, or anything else.
6. During the examination, candidates are required to comply with all the directions given to them by the people in charge, who have the right to tell a candidate to change his/her seat. You must obey all instructions given to you. Otherwise, your name and application number will be taken, and your examination will be cancelled.
7. If during the test anyone is found cheating, trying to cheat, or helping someone else to cheat, his/her name and application number will be recorded, and his/her answer sheet will not be considered for evaluation. The people in charge are in no way required to warn candidates about cheating. This is the candidates' responsibility. During the examination, it is extremely important that you exercise extreme care in not letting your answer sheet be seen by another candidate.
The distribution of candidates' answers to the questions will be analyzed by computer for indications of individual or widespread cheating. If this has occurred, the answers of those candidates will be cancelled partly or completely. Similarly, if reports of irregularities in an examination hall come to the attention of Atatürk University afterward, all the candidates who were present in that location will have their exam invalidated.
8. It is important to fill in the necessary areas on the answer sheet. You must use only a soft lead pencil for writing your name and other information or marking answers. No type of pen may be used. Mark your answers only on the answer sheet. Answers marked in the test booklet will be ignored.
9. Once the test booklets have been distributed, you should check to see that no pages are missing and all pages are readable. You should inform the people in charge immediately in such an event so that your test booklet can be changed. Check whether the letter printed on each page in the test booklet is the same as the letter printed on the cover. If you realize such a disparity later in the exam, you should ask those in charge for a new test booklet that makes the type you have been working on up to that time.
Remember to mark the letter of the booklet on your answer sheet; otherwise, your exam will be invalid, since it will not be possible to evaluate it.
10. Before you begin to answer the questions, you must write your name, surname, application number, and examination hall number on the cover of your booklet. Following the examination, all test booklets are collected and inspected. If even one page of a test booklet is missing, the answer sheet will not be considered for evaluation.
11. You may use the blank spaces on the pages of the test booklet as scrap paper for writing or calculating purposes.
12. No one, including a person in charge, is allowed to smoke a cigarette, or other tobacco product during the examination.
13. It is strictly forbidden to make a record of your answers on any paper and take it out.
14. Remember to give in your test booklet, answer sheet and ISPT Examination Entrance and identification card to the people in charge before you leave the examination hall.

(Türkçesi bir sonraki sayfadadır.)

SINAVDA UYULACAK KURALLAR

1. Cep telefonu ile sınava girmek kesinlikle yasaktır. Çağrı cihazı, telsiz, vb. haberleşme araçları ile cep bilgisayar, saat fonksiyonu dışında fonksiyonu bulunan saat vb. her türlü bilgisayar özelliği bulunan cihazlarla ve ayrıca silah vb. teçhizatla, müsvedde kâğıdı, defter, kitap, sözlük, sözlük işlevi olan elektronik aygıt, hesap makinesi, hesap cetveli, pergel, açölçer, cetvel vb. araçlarla da sınava girmek yasaktır. Bu araçlarla sınava girmiş adayların yabancı uyruk numaraları mutlaka Salon Sınav Tutanağına yazılacak, bu adayların sınavları geçersiz sayılacaktır.
2. Bu sınavda verilen cevaplama süresi **150 dakikadır (2,5 saat)**.
3. Sınav evrakını teslim ederek salonu terk eden aday, her ne sebeple olursa olsun tekrar sınava alınmayacaktır.
4. Sınavın **ilk 75 ve son 15 dakikası** içinde hiçbir adayın dışarı çıkmasına izin verilmeyecektir.
Cevaplama işlemini **ilk 75 dakikadan sonra ve son 15 dakikadan** önce tamamlarsanız cevap kâğıdınızı, soru kitapçığınızı ve 2015-ATAYÖS Sınav Giriş ve Kimlik Belgenizi salon görevlilerine teslim ederek salonu terk edebilirsiniz. Aksi takdirde sınav süresinin sona erdiği ilan edilene kadar yerlerinizde kalmalı ve tüm cevap kâğıtlarının ve soru kitapçıklarının toplanmasını beklemelisiniz.
5. Sınav süresince görevlilerle konuşmak ve onlara soru sormak yasaktır. Aynı şekilde görevlilerin de adaylarla yakından ve alçak sesle konuşmaları; ayrıca, adayların birbirinden kalem, silgi vb. şeyleri istemeleri kesinlikle yasaktır.
6. Sınav sırasında görevlilerin her türlü uyarılarına uymak zorundasınız. Gerektiğinde görevliler oturduğunuz yerleri de değiştirebilir. Sınavınızın geçerli sayılması, her şeyden önce sınav kurallarına uymanıza bağlıdır. Kurallara aykırı davranışta bulunur ve yapılacak uyarılara uymazsanız kimliğiniz tutanağa yazılacak ve sınavınız geçersiz sayılacaktır.
7. Sınav sırasında kopya çeken, çekmeye girişen, kopya veren, kopya çekilmesine yardım edenlerin kimlik bilgileri Salon Sınav Tutanağına yazılacak ve bu adayların sınavları geçersiz sayılacaktır. Görevliler kopya çekmeye veya vermeye çalışanları uyararak zorunda değildir. Sorumluluk size aittir. Sınav sırasında cevap kâğıdınızı başkaları tarafından görülmeyecek şekilde tutmanız sizin için son derece önemlidir.
Adayların sorulara verdikleri cevapların dağılımları bilgi işlem yöntemleriyle incelenecektir. Bu incelemelerden elde edilen bulgular bireysel veya toplu olarak kopya çekildiğini gösterirse, kopya eylemine katılan adayların cevaplarının bir kısmı veya tamamı iptal edilecektir. Sınav görevlileri, bir salonda sınavın kurallara uygun biçimde yapılmadığını, toplu kopya girişiminde bulunulduğunu raporlarında bildirdiği takdirde, Atatürk Üniversitesi takdir hakkını kullanarak bu salonda sınava giren adayların tümünün sınavını geçersiz sayabilir.
8. Cevap kâğıdında ilgili alanları doldurmanız gerekmektedir. Cevap kâğıdına yazılacak her türlü yazıda ve yapılacak bütün işaretlemelerde kurşun kalem kullanılacaktır. Tükenmez kalem ve dolma kalem kesinlikle kullanılmayacaktır. Cevapların cevap kâğıdına işaretlenmiş olması gerekir. Soru kitapçığına işaretlenen cevaplar geçerli değildir.
9. Soru kitapçığınızı alır almaz, sayfaların eksik olup olmadığını, kitapçıkta basım hatalarının bulunup bulunmadığını kontrol ediniz. Soru kitapçığının sayfaları eksik veya basımı hatalı ise değiştirilmesi için derhâl Salon Başkanına başvurunuz.
Soru kitapçığının her sayfasında basılı bulunan soru kitapçığı türünün, kitapçığın ön kapağında basılı soru kitapçığı türüyle aynı olup olmadığını kontrol ediniz. Farklı olması durumunda Salon Başkanından yeni bir soru kitapçığı isteyiniz. Soru kitapçığının türünün değişik olduğunu daha sonra fark ederseniz, size o zamana kadar cevaplama yaptığınız türden, hatasız bir soru kitapçığı verilmesi için Salon Başkanına başvurunuz.
Cevap kâğıdınıza, size verilecek olan soru kitapçığının türünü işaretlemeyi unutmayınız. Bu işaret konmamışsa sınavınız değerlendirilmesine olanak bulunmadığından sınavınız geçersiz sayılacaktır.
10. Cevaplamaya geçmeden önce size verilecek soru kitapçığının üzerinde ayrılan yere adınızı, soyadınızı, başvuru numaranızı ve bu salonun Salon Numarasını yazınız. Sınav sonunda soru kitapçıkları toplanacak ve Atatürk Üniversitesi'nde tek tek incelenecektir. Soru kitapçığının bir tek sayfası bile eksik çıkarsa sınavınız geçersiz sayılacaktır.
11. Soru kitapçığının sayfalarındaki boş yerleri müsvedde için kullanabilirsiniz.
12. Sınav sırasında, görevliler dâhil, kimse sigara, pipo, puro vb. şeyleri içmeyecektir.
13. Soruları ve bu sorulara verdiğiniz cevapları ayrı bir kâğıda yazıp bu kâğıdı dışarı çıkarmanız kesinlikle yasaktır.
14. Sınav salonundan ayrılmadan önce, soru kitapçığınızı, cevap kâğıdınızı ve ATAYÖS Sınav Giriş ve Kimlik Belgenizi salon görevlilerine teslim etmeyi unutmayınız.

(İngilizcesi bir önceki sayfadadır.)